

половцев, призыв к проведению Любечского съезда князей.

4. Укажите, что является лишним в каждом ряду. Свой ответ поясните.(8 баллов)

4.1. Создание стрелецкого войска, введение Большой сохи, отмена местничества, введение Уложения о службе, отмена кормлений,

4.2. Семеновские флешы, Шевардинский редут, Курганная высота, Утицкий курган.

4.3. Соловецкое восстание, Медный бунт, картофельные бунты, восстание под предводительством И.Болотникова, Соляной бунт.

4.4. Б.П.Шереметьев, Н.И.Панин, П.П.Шафиров, П.И.Ягужинский, Я.В.Брюс

5. Определите правильность предложенных суждений. Ответ внесите в таблицу.(11 баллов)

- а) Идеи «нестязательства» развивали заволжские старцы во главе с Иосифом Волоцким (1). Нестязатели вначале были поддержаны Иваном III (2), который видел в них силу, помогающую ему отнять у церкви часть её земель.
- б) Во время правления Анны Иоанновны ощущалось сильное влияние «немецкой партии» (3), которую возглавляли Миних и Ласси (4).
- в) Декабристы называли себя «детьми 1812 года» (5), однако вряд ли это справедливо, ведь их движение имело явные иностранные корни (6).
- г) Окончание XIX века охарактеризовалось в России проведением крупнейшей финансовой реформы (7). Рубль стал одной из стабильнейших валют мира (8). Это был прорыв из прошлого в будущее, неразрывно связанный с именем министра финансов Н.Х.Бунге (9).
- д) Вступление России в 1914 г. в войну вызвало рост патриотических чувств в русском обществе (10), череда блестящих побед в 1914-1915 гг. (11) укрепила эти настроения.

| | | | | | | | | | | |
|---|---|---|---|---|---|---|---|---|----|----|
| 1 | 2 | 3 | 4 | 5 | 6 | 7 | 8 | 9 | 10 | 11 |
| | | | | | | | | | | |

6. Установите соответствия. Запишите в таблицу выбранные цифры под соответствующими буквами.(10 баллов)

6.1. Соотнесите высказывание с обстоятельствами, при которых они были произнесены

| | | | |
|---|--|---|---|
| А | «Вот пришел час, который решит судьбу Отечества» | 1 | Иван IV в период разгула опричнины |
| Б | «Не прекословь державе нашей, чтоб не постиг тебя гнев мой, или лучше оставь митрополию» | 2 | Александр I, узнав о декабристских организациях |
| В | «24 часа – воля, первый выстрел – уже неволя, штурм – смерть» | 3 | А.В. Суворов перед штурмом Измаила |
| Г | «Вечевому колоколу в отчине нашей не быть» | 4 | Екатерина II о присоединении Крыма |
| Д | «Не мне подобает карать» | 5 | Петр I в начале Полтавской битвы |
| | | 6 | Из условий капитуляции Новгорода перед Иваном III |

6.2. Соотнесите событие и его современника:

| | | | |
|---|----------------------------------|---|------------------------------|
| А | Смутное время | 1 | Б.Л.Пастернак |
| Б | Отмена крепостного права | 2 | архитектор О.И.Бове |
| В | Присоединение к России Финляндии | 3 | А.Д.Меншиков |
| Г | Первая русская революция | 4 | И.И.Шишкин |
| Д | Принятие указа о единонаследии | 5 | Г.А.Потемкин |
| | | 6 | боярин Федор Никитич Романов |

| | | | | | |
|-----|---|---|---|---|---|
| | а | б | в | г | д |
| 6.1 | | | | | |
| 6.2 | | | | | |

7. Решите кроссворд.(10 баллов)



1) вид

Живописи



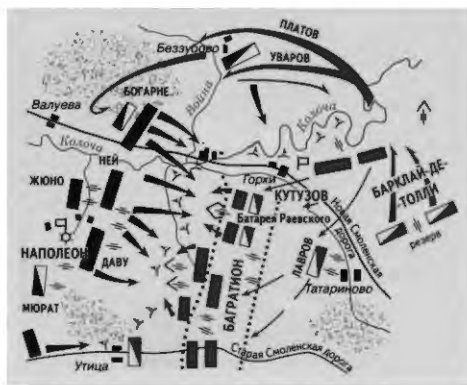
2) нововведение Петра



3) служилый



4) Река(название)



5) место сражения



6) Владимирский

Князь(прозвище)



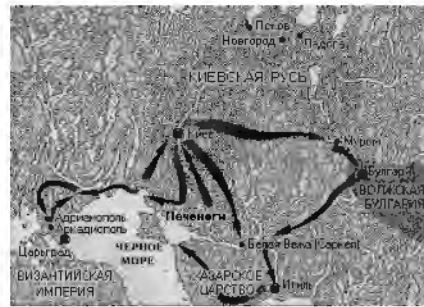
7) участники восстания



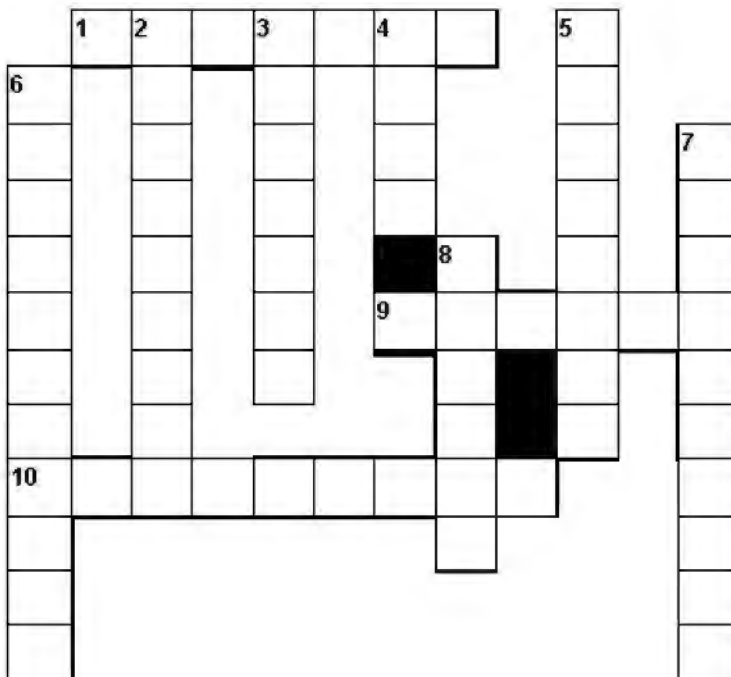
8) сборщик дани



9) прозвище князя



10) Великий киевский князь,
Предводитель походов



8. Северная война (24 балла)



1. Определите, какие события в ходе Северной войны обозначены на карте цифрами (события даны в хронологической последовательности).

2. Установите соответствие: к каждому отрывку из «Истории России...» С.М. Соловьева подберите условное обозначение, изображающее описываемое в тексте.

А. «В IX в. по Р. Х. устьем Невы начинался великий путь „из варяг в греки“; этим путем в половине века началась Россия... 16 мая 1703 г. на одном из островков Невского устья стучал топор, рубили деревянный городок».

Б. «Когда шведы ворвались в лагерь, в рядах испуганных русских солдат раздались крики: „Немцы изменили!“ Эти страшные крики отняли последние силы, и все бросились бежать».

В. «Договор состоял из следующих статей... 4) С шведской стороны уступаются царскому величеству и его преемникам в полное, неотрицаемое, вечное владение и собственность завоеванные царского величества оружием провинции... со всеми... правами и доходами».

Г. «Самую большую радость доставила Петру победа, которую он сам одержал над шведским флотом... неприятельский контр-адмирал Эреншельд с фрегатом и десятью галерами попался в плен».

Д. «Несмотря на присутствие в Балтийском море английской эскадры, русские войска опустошили шведские берега, а в конце июля князь Мих. Мих. Голицын разбил шведскую эскадру».

Е. «Петр повел войско к... древнему новгородскому Орешку на Невском протоке... После отчаянного сопротивления 11 октября комендант принужден был сдать город...»

Ж. «Страшная потеря состояла в том, что Левенгаупт явился к Карлу без военных и съестных припасов, на которые была такая надежда в главной армии шведской; наконец, битва... имела еще то печальное следствие для шведских солдат, что они потеряли прежнюю самоуверенность...»

З. «Усталые, волнуемые не испытанными никогда ощущениями, царь, генералы и офицеры после молебна сели в палатках обедать. Светлое чувство неизмеримой радости не допускало никаких темных чувств: всех сюда! и пленных шведских генералов усадили за стол...»

Запишите в таблицу выбранные цифры под соответствующими буквами.

Ответ:

| | | | | | | | |
|---|---|---|---|---|---|---|---|
| А | Б | В | Г | Д | Е | Ж | З |
| | | | | | | | |

3. Установите соответствие между местами сражений и их особенностями. К каждой позиции первого столбца подберите соответствующую позицию второго столбца.

| Место сражения | Особенности |
|----------------|--|
| А) Нарва | 1. Первая крепость, взятая русскими войсками в ходе Северной войны |
| Б) Гангут | 2. Первая крупная победа русских над шведской регулярной армией в полевом сражении |
| В) Полтава | 3. Первая крупная морская победа России |
| Г) Лесная | 4. Разгром русской армии Карлом XII |
| | 5. Разгром русской армией Карла XII |

Запишите в таблицу выбранные цифры под соответствующими буквами.

Ответ:

| | | | |
|---|---|---|---|
| А | Б | В | Г |
| | | | |

4. Какие три территории вошли в состав России по итогам Северной войны? Запишите соответствующие цифры.

- | | |
|-----------------------|----------------|
| 1. Восточная Пруссия. | 4. Устье Невы. |
| 2. Курляндия. | 5. Финляндия. |
| 3. Лифляндия. | 6. Эстляндия. |

Ответ:

| | | |
|--|--|--|
| | | |
|--|--|--|

| Оценка за работу. (Заполняется жюри.) | | | | | | | | |
|--|---|---|---|---|---|---|---|------|
| Задание | 1 | 2 | 3 | 4 | 5 | 6 | 7 | итог |
| оценка | | | | | | | | |

Члены жюри: